

٢٠

((تقويم مهارات الصف الأول الفترة الأولى (الفترة الدراسية الثانية (١٤٤٧ هـ))

اسم الطالب / ة الصف:

(١١ درجة)

* السؤال الأول : أصل بين كل عبارته وما يناسبها :



مشمس



ممطر



غانم



مثلج



الخريف




الشتاء



الصيف



الربيع



الغاز



السائل



الصلب




السؤال الثاني : أ) اختاري الإجابة الصحيحة :

(٩ درجات)

| | | | |
|--|--------------|---------------------|----------|
| ١ - في السنة | | | |
| ٥ فصول | ٤ فصول | ٦ فصول | فصل واحد |
| ٢- يكون الجو معتدل وتنمو النباتات في فصل | | | |
| الصيف | الخريف | الربيع | الشتاء |
| ٣- تقاس درجة الحرارة ب | | | |
| مقياس المطر | دوارة الرياح | مقياس الحرارة | الميزان |
| ٤- أشد فصول السنة حرارة فصل | | | |
| الخريف | الصيف | الشتاء | الربيع |
| ٥- تتحرك الرياح ب | | | |
| بيطاء | لا تتحرك | بيطاء او سرعه كبيره | _____ |
| ٦ - حالة السماء والجو خلال اليوم يسمى | | | |
| الفصل | الطقس | الحرارة | _____ |

ب) صلي كل صورة بالوعاء الذي تشغله :



تمنياتي لكن بالتوفيق معلمة المادة / وداد الحربي . ❤️

(قناة أ . وداد الحربي)

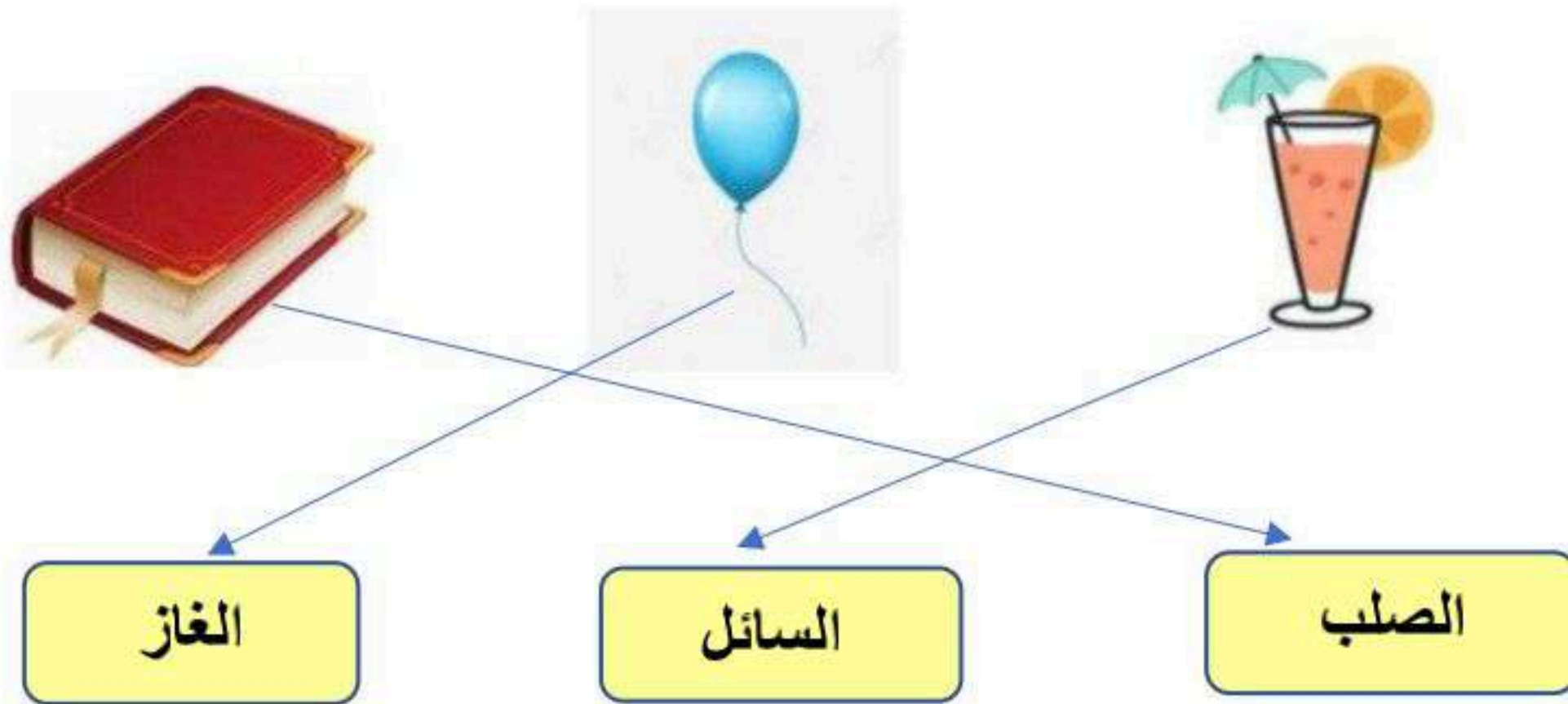
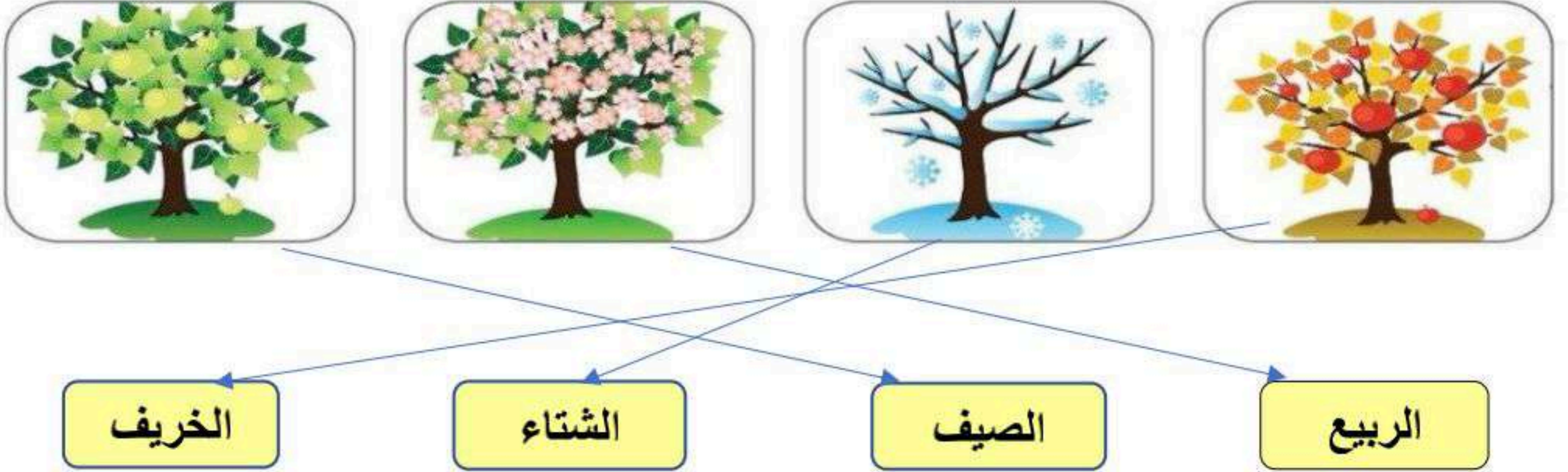
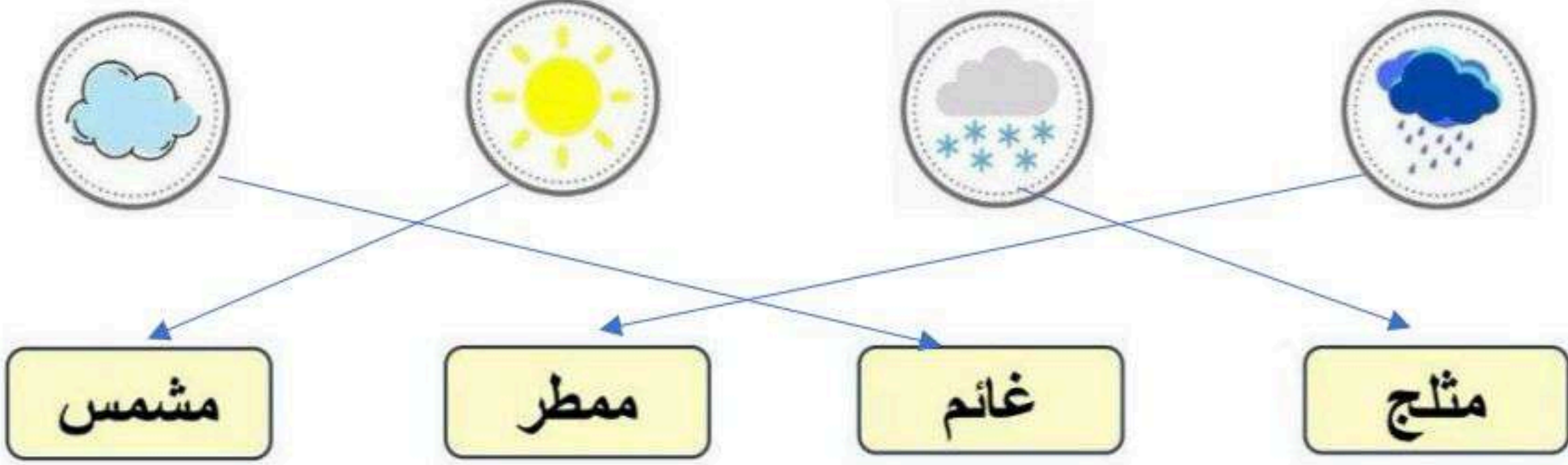
نموذج الإجابة

((تقويم مهارات الصف الأول الفترة الأولى (الفترة الدراسية الثانية (١٤٤٧ هـ))

اسم الطالب / ة ((نموذج إجابة)) الصف:

(١١ درجة)

* السؤال الأول : أصل بين كل عبارته وما يناسبها :

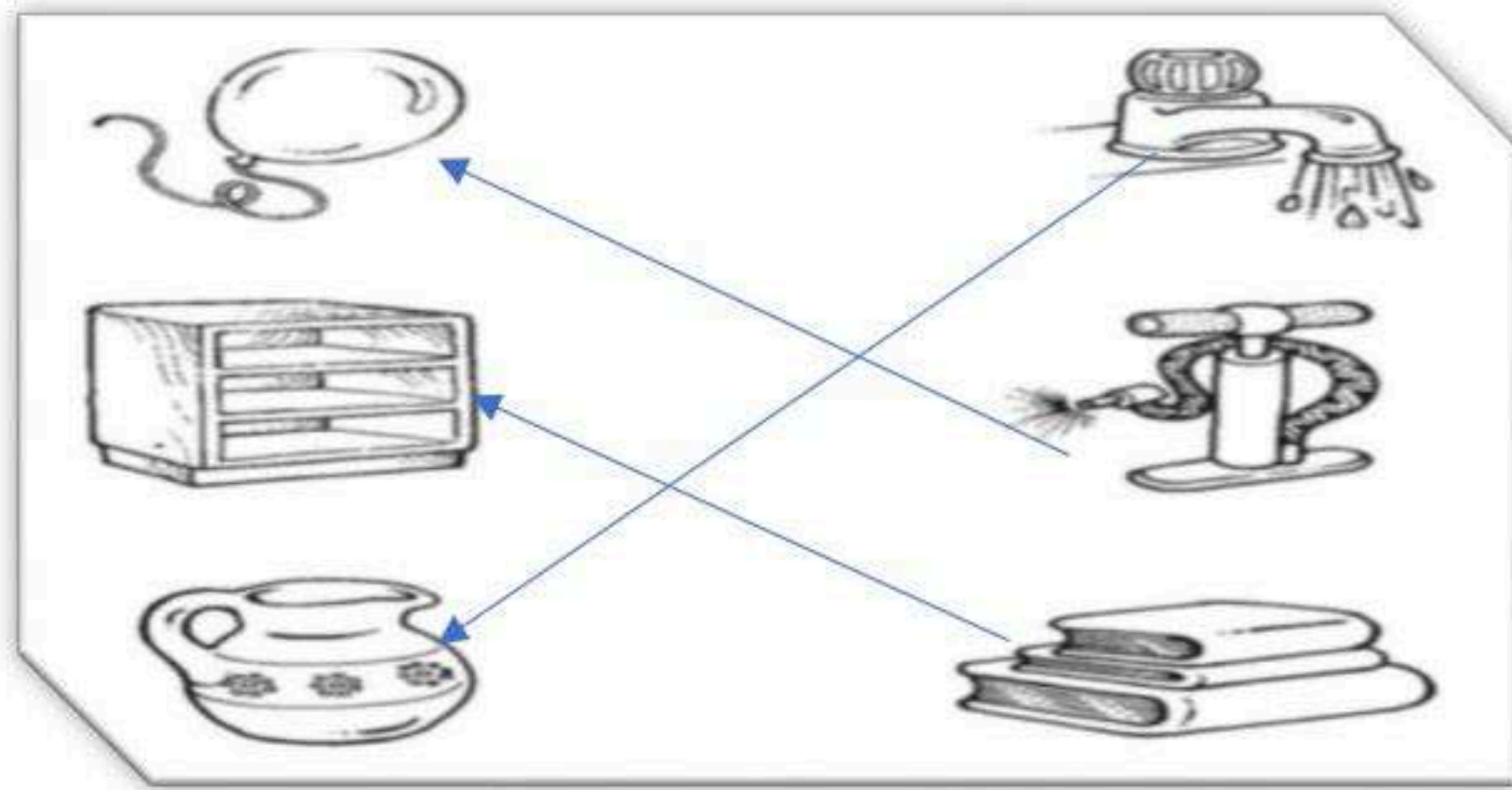


السؤال الثاني : أ) اختاري الإجابة الصحيحة :

(٩ درجات)

| | | | |
|--|--------------|--------------------|----------|
| ١ - في السنة | | | |
| ٥ فصول | ٤ فصول | ٦ فصول | فصل واحد |
| ٢- يكون الجو معتدل وتنمو النباتات في فصل | | | |
| الصيف | الخريف | الربيع | الشتاء |
| ٣- تقاس درجة الحرارة ب | | | |
| مقياس المطر | دوارة الرياح | مقياس الحرارة | الميزان |
| ٤- أشد فصول السنة حرارة فصل | | | |
| الخريف | الصيف | الشتاء | الربيع |
| ٥- تتحرك الرياح ب | | | |
| بيطء | لا تتحرك | بيطء او سرعه كبيره | _____ |
| ٦ - حالة السماء والجو خلال اليوم يسمى | | | |
| الفصل | الطقس | الحرارة | _____ |

ب) صلي كل صورة بالوعاء الذي تشغله :



تمنياتي لکن بالتوفيق معلمة المادة / وداد الحري . ❤️

(قناة أ . وداد الحري)